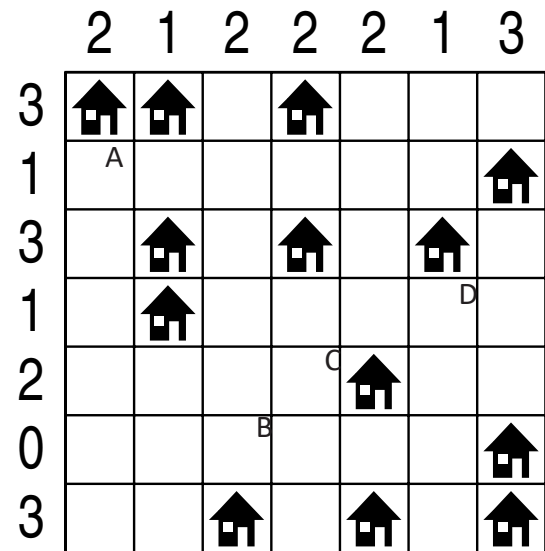
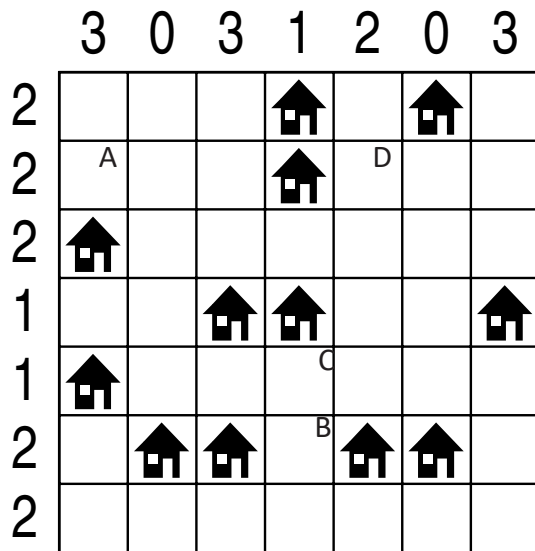


IMIĘ I NAZWISKO UCZESTNIKA

**ARCHITEKT**

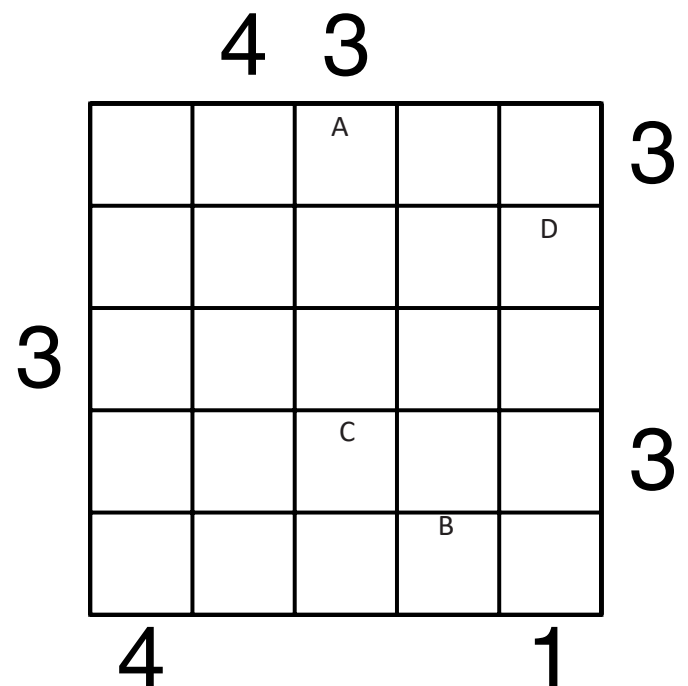
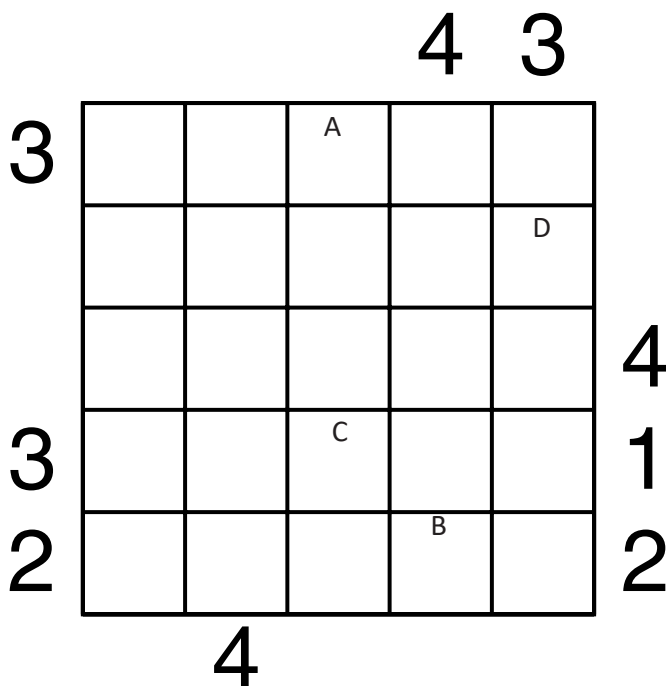


Jeśli w polu stoi zbiornik, wstaw "1". W przeciwnym przypadku wstaw "0".

A	B	C	D

A	B	C	D

**PIRAMIDY**



Podaj cyfry umieszczone w oznaczonych polach.

A	B	C	D

A	B	C	D

# LATARNIE

2						B			
			D						
	3								C
					1				
							2		
					0				1
				0		1			
		1							
A					1		1		

		B			6				
	C		4				5		2
							3		
A									
			2						2
4									
				2				D	
									3

Jeśli na oznaczonym polu jest statek, wpisz "1". W przeciwnym przypadku postaw "0".

A	B	C	D

A	B	C	D

# OD 0 DO 9

W puste pola wpisz liczby od 0 do 9, tak aby każdy wiersz zawierał dziesięć różnych liczb - w kolumnach liczby mogą się powtarzać.

Pola z takimi samymi liczbami nie mogą stykać się bokiem ani rogiem.

Pod diagramem podano sumy liczb w kolumnach.

		5			D	A		8	
	B	0		1	C	4		9	6
10	6	7	4	17	4	8	13	13	8

9	1			4		3	A		2
			C	5		0	B		D
17	8	9	5	6	8	12	11	8	6

Wpisz liczbę z oznaczonego pola.

A	B	C	D

Wpisz liczbę z oznaczonego pola.

A	B	C	D