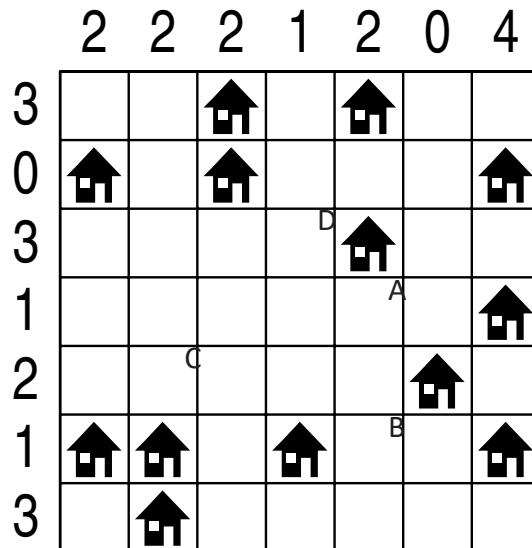
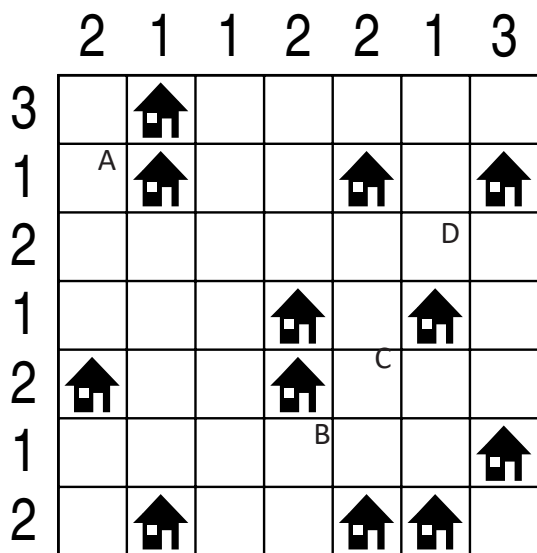


IMIĘ I NAZWISKO UCZESTNIKA

ARCHITEKT

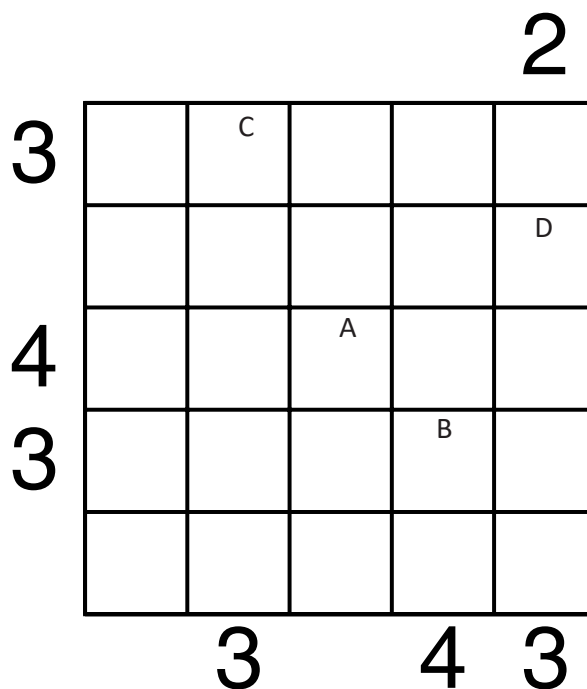
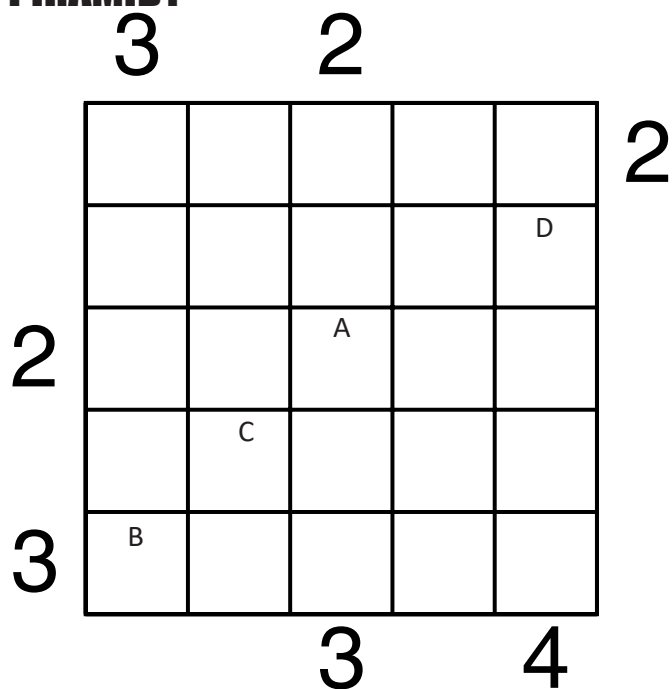


Jeśli w polu stoi zbiornik, wstaw "1". W przeciwnym przypadku wstaw "0".

A	B	C	D

A	B	C	D

PIRAMIDY



Podaj cyfry umieszczone w oznaczonych polach.

A	B	C	D

A	B	C	D

LATARNIE

	B			1					
							3		
			C						
0						2			
				3					
									A
	1								
							D		
		0							
1				2					2

						B		2	
			C						1
							2		
	2								
						3			A
	1								
			5				D		2
3									3

Jeśli na oznaczonym polu jest statek, wpisz "1". W przeciwnym przypadku postaw "0".

A	B	C	D

A	B	C	D

OD 0 DO 9

W puste pola wpisz liczby od 0 do 9, tak aby każdy wiersz zawierał dziesięć różnych liczb - w kolumnach liczby mogą się powtarzać.

Pola z takimi samymi liczbami nie mogą stykać się bokiem ani rogiem.

Pod diagramem podano sumy liczb w kolumnach.

A			3		0	D	1		7
	B	9		C					6
7		1	8	3	0	9	6		
12	19	15	13	18	5	22	10	4	17

Wpisz liczbę z oznaczonego pola.

A	B	C	D

5		A	7		0	D	3		
		2		8				1	3
3	7			2	0	C	4	8	B
12	13	19	18	11	9	12	12	11	18

Wpisz liczbę z oznaczonego pola.

A	B	C	D