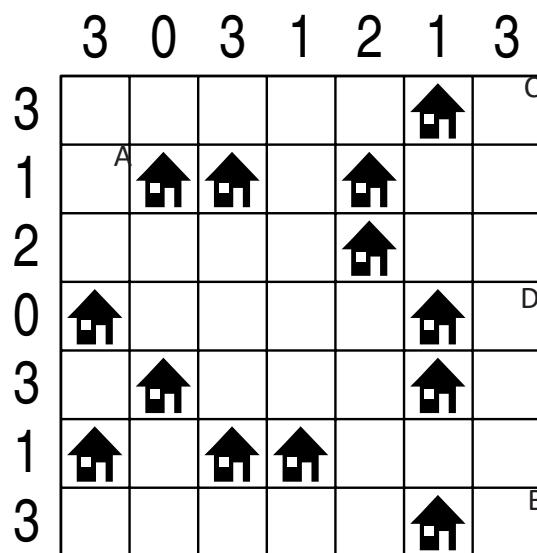
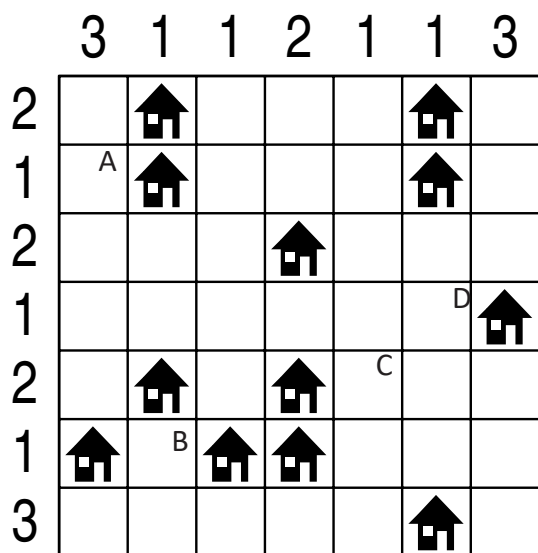


IMIĘ I NAZWISKO UCZESTNIKA

ARCHITEKT

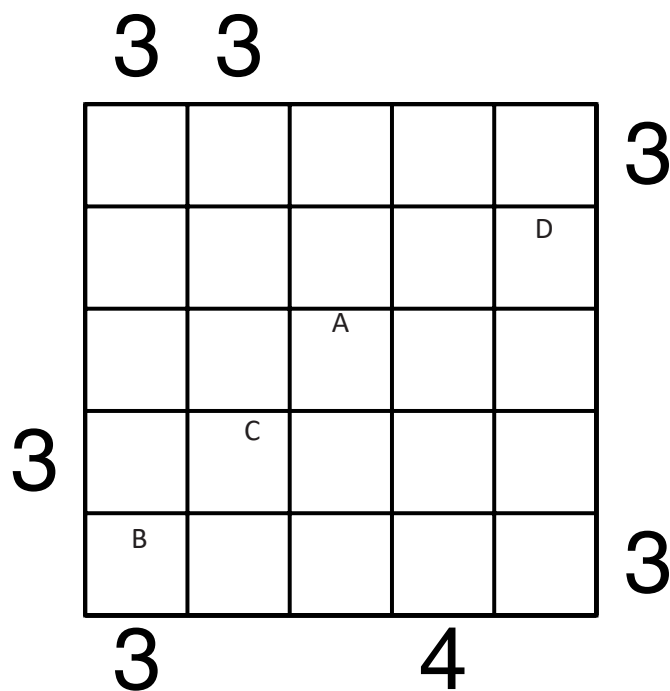
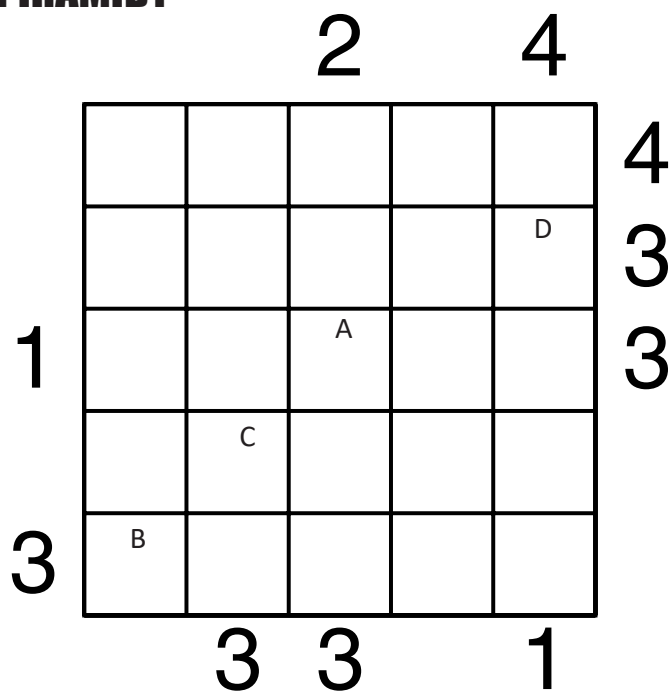


Jeśli w polu stoi zbiornik, wstaw "1". W przeciwnym przypadku wstaw "0".

A	B	C	D

A	B	C	D

PIRAMIDY



Podaj cyfry umieszczone w oznaczonych polach.

A	B	C	D

A	B	C	D

LATARNIE

1			B						
					5				
1								C	
1		4		D				1	
					3				
1		4		4					
2									
					A				3

							2		
2	C								
					0				1
3									
					1				
		1		1					D
						1			
	1							A	
				2		B			

Jeśli na oznaczonym polu jest statek, wpisz "1". W przeciwnym przypadku postaw "0".

A	B	C	D

A	B	C	D

OD 0 DO 9

W puste pola wpisz liczby od 0 do 9, tak aby każdy wiersz zawierał dziesięć różnych liczb - w kolumnach liczby mogą się powtarzać.

Pola z takimi samymi liczbami nie mogą stykać się bokiem ani rogiem.

Pod diagramem podano sumy liczb w kolumnach.

	8		3	9	4		2	D	
0			B		A		3		C
6	12	12	11	15	6	4	9	6	9

	5			A				D	9
4		3	0		B	C	5	7	
11	11	4	8	12	14	1	7	11	11

Wpisz liczbę z oznaczonego pola.

A	B	C	D

Wpisz liczbę z oznaczonego pola.

A	B	C	D