

IMIĘ I NAZWISKO UCZESTNIKA

DZIAŁANIA

4+	7+	6÷		48×	20×
		6×			
12×		5÷		D	12+
11+	24×		2÷		
	B				
	5+		1-	15×	
36×					
A				C	

3-	7+		6×		8+
B	2÷	11+			
7+		3-		2÷	
	600×		7+	3-	2×
			A		
5-		11+			
		C		3-	D

Podaj cyfry umieszczone w oznaczonych polach.

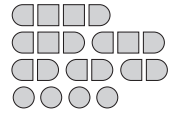
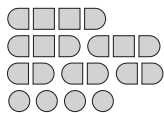
A	B	C	D

A	B	C	D

SAPER NA MORZU

			B			1	1	1			
	0		1	3	3	2			2	0	
	0			2						1	1
		2						A		1	
	D		1	2	2	2	2			1	1
				C		1					1
		0				1					1
	2							0	1		
		1					1		0	0	
	2				3	2		0			
	1	0		0		0				0	
								0			

0		0		0							
		1	1	1		2	3		1	0	
		1	3					2	1		
1	C			A				2		2	1
						4				3	
0		0		0				0			
		0	0			D			0		1
	1	2		3	3						0
0				B				1			
		2	3		2			1	0		0
	0				0	0	1	1		0	
		0		0			1	1			



Jeśli na oznaczonym polu jest statek, wpisz "1". W przeciwnym przypadku postaw "0".

A	B	C	D

A	B	C	D

WĘŻE SAPERA

1			B				
		4			$\begin{matrix} 1 & 1 \\ 3 \end{matrix}$	6	
D					$\begin{matrix} 2 \\ 2 \end{matrix}$		
2							
$\begin{matrix} 1 \\ 1 \end{matrix}$					A		
			6				
			$\begin{matrix} 1 \\ 2 \end{matrix}$		$\begin{matrix} 1 \\ 1 \end{matrix}$	3	
2	C		1		0		

$\begin{matrix} 2 \\ 2 \end{matrix}$	7		6		$\begin{matrix} 2 \\ 4 \end{matrix}$	7	
		3	B	2			
D	$\begin{matrix} 1 \\ 2 \end{matrix}$				$\begin{matrix} 1 \\ 1 \end{matrix}$		
				3		A	
		C					
	2		3			3	2

Jeśli oznaczone pole jest zamalowane, wpisz "1". W przeciwnym przypadku postaw "0".

A	B	C	D

A	B	C	D

WIEŻE

	D		A			9
C	5	9			3	8
	6		10	5		B
			7			8
	9	12		9	9	
	8		11			
2	4			4		7

	6	5		11		
8	3		9	10	A	8
7		3	8			5
		B	9		7	
		7	10	11		9
		C			9	D
9	4			9	6	

Jeśli oznaczone pole jest zamalowane, wpisz "1". W przeciwnym przypadku postaw "0".

A	B	C	D

A	B	C	D

IMIĘ I NAZWISKO UCZESTNIKA

TRATWY

						D			
4			C	4				3	
		1			4				
	4		1						
								4	
		6							
	6								6
				8					
						A		B	
		1					1		

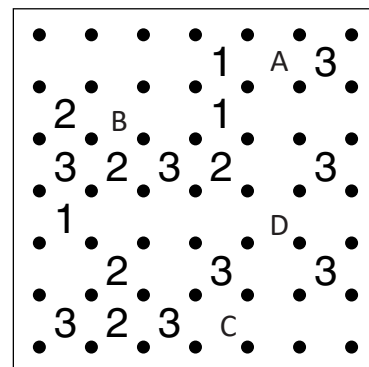
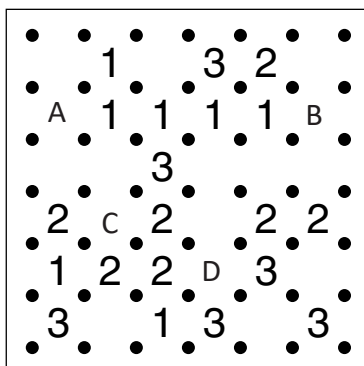
2			4		3			4	
									1
								6	
	3			4	A				
		3							
C				1			4		2
					B				
				6					2
4								D	

Jeśli oznaczone pole jest zamalowane, wpisz "1". W przeciwnym przypadku postaw "0".

A	B	C	D

A	B	C	D

WIELOKROPKA



Podaj liczbę linii otaczających oznaczone pole.

A	B	C	D

A	B	C	D

WIEŻE

		D	5	9	11	
4		5				4
	7	7			11	C
3				8		4
2		B		8	10	
	4		7		A	3
	3		8		10	

3	4			3		
D	6		7	C	6	
	8			6	10	
4		7	5		5	
6	5				7	B
	7	10	6	7		
	9		A		7	9

Jeśli oznaczone pole jest zamalowane, wpisz "1". W przeciwnym przypadku postaw "0".

A	B	C	D

A	B	C	D

OBRAZEK LOGICZNY

					5	4													
				4	1	1	1	2	1	3	3	2	2						
	1	3	4	2	1	4	8	1	2	3	4	1	1	1	1	1	1	1	1
6	2	2	2	1	1	1	2	11	8	2	1	2	1	1	1	2	1	1	3
2	1	1																	
4	2																		
3	1	1																	
3	1	2																	
3	1	2																	
3	1	2				A													
3	1	1	2																
3	1	3																	
10																			
4																			
3	2																		
4	1																		
7	10					B													
2	6																		
2	4																		
1	4	1					C			D									
2	5																		
4	5	1																	
7																			

Jeśli oznaczone pole jest zamalowane, wpisz "1". W przeciwnym przypadku postaw "0".

A	B	C	D

IMIĘ I NAZWISKO UCZESTNIKA

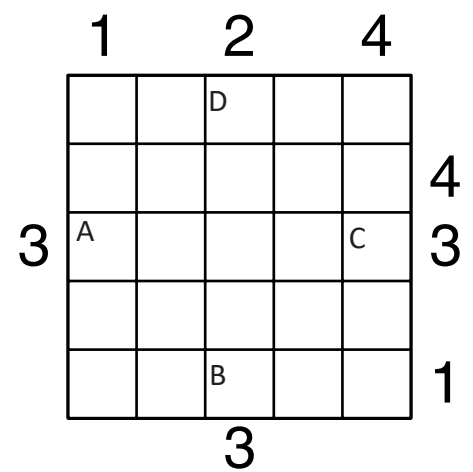
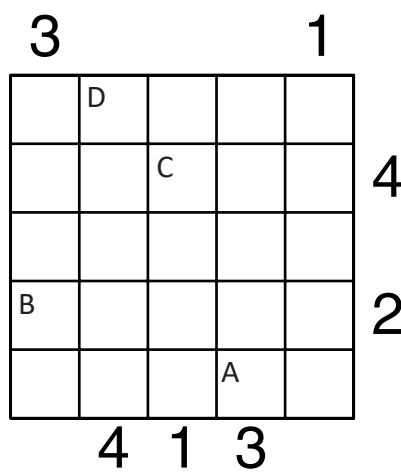
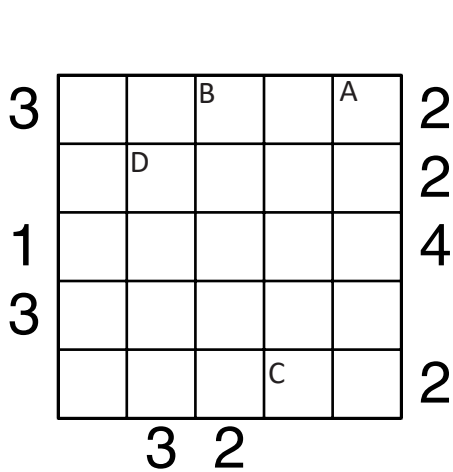
OD 0 DO 9

	0	7		5	4	6	1		3
A		C	3	0		D			
0	3						B	8	5
9	8	12	12	7	17	20	12	23	15

Wpisz liczby z zaznaczonych pól.

A	B	C	D

PIRAMIDY



Podaj cyfry umieszczone w oznaczonych polach.

A	B	C	D

A	B	C	D

A	B	C	D

ŁAMIGŁÓWKA ARCHYTEKTA

	6	1	6	1	5	0	6	0	8	0	8
4	🏠	C	🏠			🏠			🏠		
2											🏠
3			🏠							🏠	
1	🏠			🏠				🏠			
4		D				🏠					
2		🏠					🏠		🏠		🏠
4	🏠		🏠	🏠			🏠				
0						🏠		🏠		🏠	
4					A						
1	🏠		🏠		🏠			🏠		🏠	
5	🏠		🏠								
1	🏠		🏠			🏠					🏠
4			🏠			🏠					
2			🏠					🏠		🏠	
4	🏠			🏠	B	🏠		🏠		🏠	

	5	3	4	4	4	3	5	2	5	2	4
6		🏠		🏠		🏠		🏠		🏠	
0				🏠		🏠			🏠	🏠	
4			🏠							B	
1						🏠			🏠		
3	🏠		🏠								
1				A						🏠	
5				🏠		🏠		🏠		🏠	🏠
1	🏠		🏠					🏠			
5		🏠						🏠			
0	🏠			🏠	🏠			🏠			
5								🏠			
0											🏠
5		🏠		🏠						🏠	D
1			🏠	🏠				🏠			
4			🏠			🏠		🏠	C		🏠

Jeśli w polu stoi zbiornik, wstaw "1". W przeciwnym przypadku wstaw "0".

A	B	C	D

A	B	C	D

KRZYŻÓWKI LICZBOWE

	4	13			9	40			
3					17				10
15					15				D
	19				6				
					4	6			
		11							
16	24								
17				10	20	5			7
16				C		3			
	20					8			
17		B				13			
12				27					
9				11					
					A				

	16	17			6	41			
17					14				13
21				24					
				C	4	11			
	15						10		B
						9			
		13							
4	26								
4					12				7
26					16	24			
					D		3		
	22						9		
14		A					5		
16					23				
6					4				

Podaj cyfry umieszczone w oznaczonych polach.

A	B	C	D

A	B	C	D