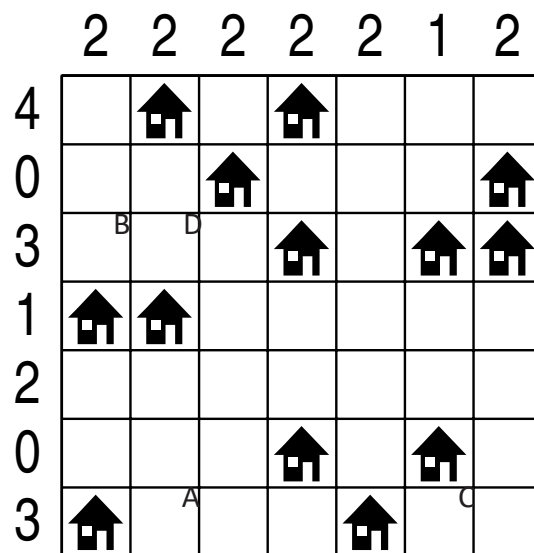
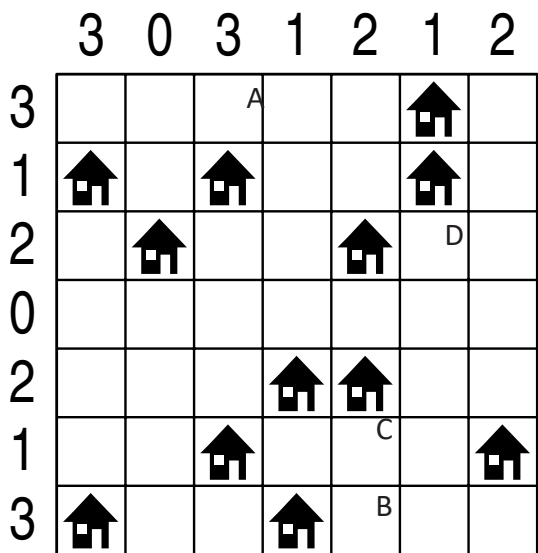


IMIĘ I NAZWISKO UCZESTNIKA

ARCHITEKT

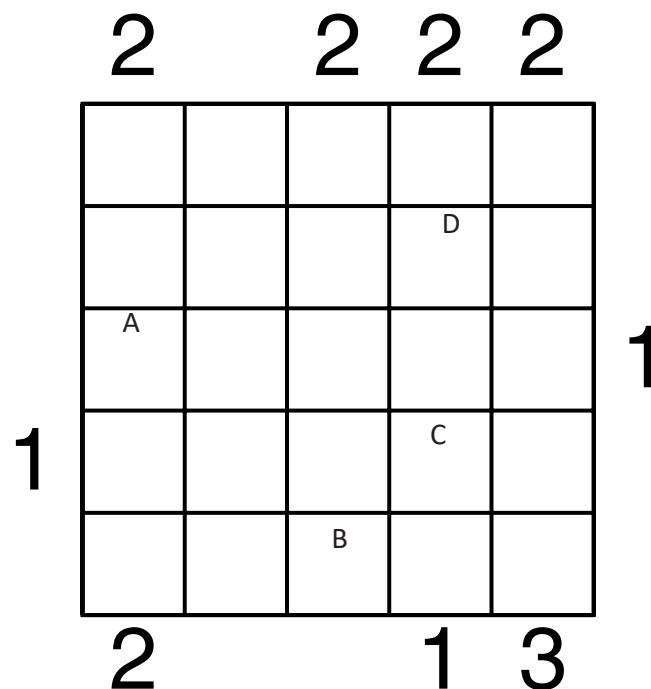
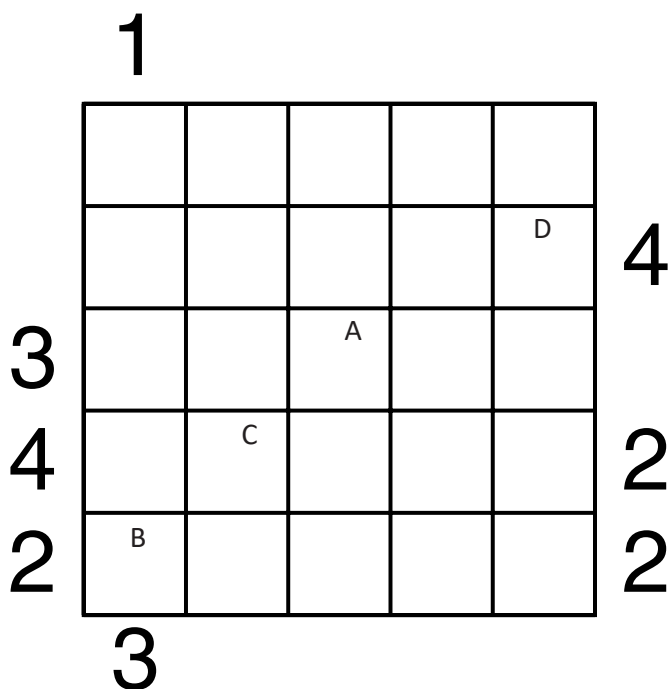


Jeśli w polu stoi zbiornik, wstaw "1". W przeciwnym przypadku wstaw "0".

A	B	C	D

A	B	C	D

PIRAMIDY



Podaj cyfry umieszczone w oznaczonych polach.

A	B	C	D

A	B	C	D

LATARNIE

4					B				
					1		1		1
	D								
				3		4		C	
		4					1		
									1
			0						
2					A				1

					B				
2							2		2
					2				
		2						C	
3					D				
									2
		1			1				
				2	A		2		

Jeśli na oznaczonym polu jest statek, wpisz "1". W przeciwnym przypadku postaw "0".

A	B	C	D

A	B	C	D

OD 0 DO 9

W puste pola wpisz liczby od 0 do 9, tak aby każdy wiersz zawierał dziesięć różnych liczb - w kolumnach liczby mogą się powtarzać.

Pola z takimi samymi liczbami nie mogą stykać się bokiem ani rogiem.

Pod diagramem podano sumy liczb w kolumnach.

2				4	0	6		7	
1		5		D		A			
	7	1			C			6	3
9	8	2	3			B	4		7
14	22	17	7	19	23	19	22	22	15

		D		5	4		C	2	8	
		5			8		A	4	6	
4		6	8			1	7		9	
2	8		1		6		B			
14	21	17	25	13	23	13	18	18	18	

Wpisz liczbę z oznaczonego pola.

A	B	C	D

Wpisz liczbę z oznaczonego pola.

A	B	C	D